

# Метр. Соотношение между единицами длины



Отгадайте, имя какого сказочного героя здесь зашифровано.

$11 + 8$

Й

$11 - 7$

И

$12 - 9$

Л

$13 - 8$

Ч

$14 - 6$

О

$15 - 8$

А

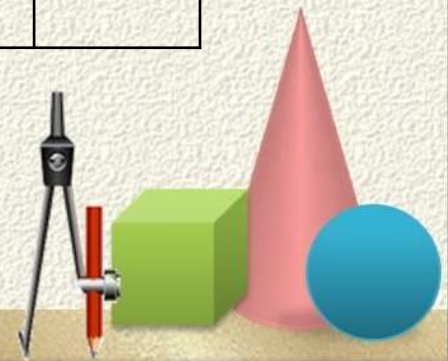

$13 + 5$

Б

$9 + 5$

Т

<b>7</b>	<b>19</b>	<b>18</b>	<b>8</b>	<b>3</b>	<b>4</b>	<b>14</b>




## Анализ задач.


Какую из этих задач вы можете решить, а какую – нет?  
Почему?

а) Таня полила шесть грядок огурцов.  
Сколько грядок ей осталось полить?

б) На шахматной доске 20 фигур. Из них 13 черных,  
остальные – белые. Сколько белых фигур на шахмат -  
ной доске?



3. Маша, Оля и Настя заняли призовые места в соревнованиях на коньках. Маша не заняла ни первое, ни второе место. Оля не пришла первой. **Какое место заняла каждая из девочек?**



**Прочитайте записи на доске:**

4 м, 45 м, 4 м 8 дм, 42 м 8 дм 9 см



*10 см меньше 1 м;  
49 дм меньше 5 м;  
80 см больше 7 дм;  
5 дм меньше 60 см*

*Запишите в тетрадь.*



Проверьте.

$$10 \text{ см} < 1 \text{ м};$$

$$49 \text{ дм} < 5 \text{ м};$$

$$80 \text{ см} > 7 \text{ дм};$$

$$5 \text{ дм} < 60 \text{ см}$$

